

Итоговая контрольная работа за курс астрономии старшей школы

Цель: контроль знаний и умений учащихся посредством выполнения заданий.

Тип урока: урок по проверке, оценке и коррекции знаний.

УМК: Б. А. Воронцов-Вельяминов. Астрономия (11).

Кодификатор элементов содержания и структура контрольной работы:

Элемент содержания	Тип вопроса
Часть 1:	
1. Звезды и созвездия. Небесные координаты. ПКЗН.	задание с выбором ответа
2. Движение Луны и Солнца. Конфигурации планет.	задание с выбором ответа
3. Солнце и звезды. Виды звезд и их характеристики.	задание с выбором ответа
4. Строение Вселенной. Галактики.	задание с выбором ответа
Часть 2:	
5. Звезды и созвездия.	установление соответствия
6. Единицы измерения астрономических величин.	упорядочивание последовательности
7. Физические характеристики небесных тел.	задание с множественным выбором
8. Законы небесной механики.	задача с открытым ответом
Часть 3:	
9. Природа тел Солнечной системы.	качественный вопрос
10. Расстояния до небесных объектов. Угловые и линейные размеры небесных объектов.	задача с развернутым ответом

Источники:

1. Воронцов-Вельяминов, Б. А. Астрономия. Базовый уровень. 11 кл.: учебник / Б. А. Воронцов-Вельяминов, Е. К. Страут. – М.: Дрофа, 2015. – 237 с.
2. Галузо, И. В. Астрономия: Сб. разноуровневых заданий: Учеб. пособие для 11 кл. / И. В. Галузо, В. А. Голубев, А. А. Шимбалев. – Мн: ЧУП «Изд-во Юнипресс», 2005. – 272 с.
3. Малахова, Г. И. Дидактический материал по астрономии: Пособие для учителя. / Г. И. Малахова, Е. К. Страут. – М.: Просвещение, 1989. – 96 с.
4. Воронцов-Вельяминов, Б. А. Сборник задач по астрономии: Пособие для учащихся. / Б. А. Воронцов-Вельяминов. – М.: Просвещение, 1980. – 56 с.
5. Открытый банк заданий ЕГЭ – Физика // <http://www.fipi.ru/content/otkrytyy-bank-zadaniy-ege>
6. <http://www.stellarium.org/ru> - виртуальный планетарий.
7. Изображения:
 - Галактики: <https://goo.gl/wqHFDU> <https://goo.gl/Sb8XZm> <https://goo.gl/9arq8E> <https://goo.gl/n8wk5L>
 - Солнечное затмение: иллюстрация к учебнику А. В. Перышкина. Физика-8 кл. – М. Дрофа, 2016. – стр. 191, рис. 126.

Итоговая контрольная работа по астрономии

Вариант № 1

Инструкция по выполнению работы

На выполнение контрольной работы по астрономии отводится 45 минут. Работа состоит из 3-х частей и включает 10 заданий.

Часть 1 содержит 4 задания (1–4). К каждому заданию приводится 4 варианта ответа, из которых только 1 верный. При выполнении задания части 1 в тетради для контрольных работ сделайте запись: «Часть 1», проставьте номера заданий по порядку и запишите номер выбранного ответа в контрольной работе. Если вы выбрали не тот номер, то зачеркните этот номер крестиком, а рядом поставьте номер правильного ответа.

Часть 2 включает 4 задания с кратким ответом (5–8). При выполнении заданий части 2 ответ записывается в тетради для контрольных работ. При этом делается запись: «Часть 2», проставляются номера заданий по порядку и записывается последовательность цифр ответа. В случае записи неверного ответа зачеркните его и запишите рядом новый.

Часть 3 содержит 2 задания (9–10), на которые следует дать развернутый ответ. Ответы на задания части 3 записываются в тетради для контрольных работ, после записи: «Часть 3». При выполнении заданий части 2 и 3 значение искомой величины следует записать в тех единицах, которые указаны в условии задания. Если такого указания нет, то значение величины следует записать в Международной системе единиц (СИ).

При вычислениях разрешается использовать непрограммируемый калькулятор.

При выполнении заданий можно пользоваться черновиком. Записи в черновике не учитываются при оценивании работы.

Советуем выполнять задания в том порядке, в котором они даны. С целью экономии времени пропускайте задание, которое не удаётся выполнить сразу, и переходите к следующему. Если после выполнения всей работы у вас останется время, то можно вернуться к пропущенным заданиям.

За каждый правильный ответ в «Части 1» дается 1 балл, в «Части 2» 1–2 балла, в «Части 3» – от 1 до 3 баллов. Баллы, полученные вами за все выполненные задания, суммируются. Максимальное количество баллов 18.

Отметка 5 ставится за более 88% выполненной работы (16–18 баллов).

Отметка 4 ставится за более 70% выполненной работы (13–15 баллов).

Отметка 3 ставится за более 55% выполненной работы (10–12 баллов).

Постарайтесь выполнить как можно больше заданий и набрать как можно большее количество баллов.

Желаем успеха!

Ниже приведены справочные данные, которые могут понадобиться вам при выполнении работы.

Наиболее важные величины, встречающиеся в астрономии	
Видимый угловой диаметр Солнца и Луны	0,5 ⁰
Продолжительность звездного года (период обращения Земли вокруг Солнца)	365 сут 5 ч 49 мин
Продолжительность синодического месяца (период изменения фаз Луны)	29,5 сут
Продолжительность звездного месяца (период обращения Луны вокруг Земли)	27,3 сут
Средний радиус Земли	6 370 км
Среднее расстояние от Земли до Луны	384 000 км
Среднее расстояние от Земли до Солнца	150 млн км
1 парсек	206265 а.е. = 3, 26 св. года = $3 \cdot 10^{13}$ км

Часть 1

К каждому из заданий 1-4 даны 4 варианта ответа, из которых только 1 правильный. Номер этого ответа запишите в тетради.

1. Какое из перечисленных созвездий *нельзя* наблюдать 15 октября в 20.00 в г. Нижний Новгород (широта 56^0)?

А) *Лира*

В) *Большой Пес*

Б) *Овен*

Г) *Козерог*

2. Как называется фаза Луны, изображенная на рисунке? В какое время суток Луна видна в этой фазе?

А) *Первая четверть. Видна вечером.*

Б) *Последняя четверть. Видна утром.*

В) *Полулуние. Видна вечером.*

Г) *Полнолуние. Видна всю ночь.*



3. К какому типу относятся две близко расположенные звезды, связанные силами тяготения и обращающиеся около общего центра масс?

А) *Оптические двойные звезды*

В) *Спектрально-двойные звезды*

Б) *Физические двойные звезды*

Г) *Сверхновые звезды*

4. Какой из перечисленных объектов лишний в этом списке:

А) *Шаровое звездное скопление*

В) *Звездная ассоциация*

Б) *Галактика*

Г) *Созвездие*





Часть 2

При выполнении заданий с кратким ответом (задания 5-8) необходимо записать ответ в указанном в тексте задания месте.

Ответом к каждому из заданий 5-7 будет некоторая последовательность цифр. В тетради запишите номер вопроса и последовательность цифр – номера выбранных ответов. Каждую цифру пишите в отдельной клеточке.

5. Установите соответствие (логическую пару). К каждому названию созвездия, отмеченному буквой, подберите соответствующее изображение, обозначенное цифрой. Запишите в таблицу выбранные цифры под соответствующими буквами.

НАЗВАНИЕ СОЗВЕЗДИЯ	ИЗОБРАЖЕНИЕ
А. Пегас	1.

	
Б. Лебедь	2. 
В. Орион	3. 
Г. Кассиопея	4. 

Ответ:

А	Б	В	Г

6.

Расположите астрономические величины в порядке их *возрастания*. Запишите в

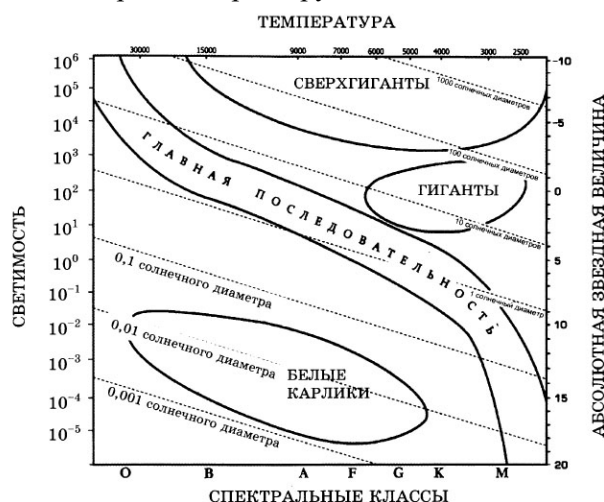
таблицу получившуюся последовательность цифр ответа.

- 1) 200 а.е.
- 2) 12 пк
- 3) 500 000 000 км
- 4) 5 св. лет

Ответ:

7.

На рисунке представлена диаграмма Герцшпрунга – Рассела.



Выберите **два** утверждения о звездах, которые соответствуют диаграмме.

- 1) Температура звезд спектрального класса G в 2 раза выше температуры звезд спектрального класса A.
- 2) Звезда Бетельгейзе относится к сверхгигантам, поскольку ее радиус почти в 1 000 раз превышает радиус Солнца.
- 3) Плотность белых карликов существенно меньше средней плотности гигантов.
- 4) Звезда Антарес имеет температуру поверхности 3 300 K и относится к звездам спектрального класса A.
- 5) «Жизненный цикл» звезды спектрального класса K главной последовательности более длительный, чем звезды спектрального класса B главной последовательности.

Ответ:

Ответом к заданию 8 является число. В тетради запишите номер вопроса и полученный ответ. Каждую цифру пишите в отдельной клеточке. Единицы измерения астрономических величин писать не нужно.

8.

С каким периодом обращалась бы вокруг Солнца Земля, если бы масса Солнца была вдвое больше? Ответ выразите в годах и округлите до десятых.

Ответ: _____ г

Часть 3

Для ответа на задания части 3 (задания 9-10) используйте тетрадь для контрольных работ. Запишите сначала номер задания, а затем развернутый ответ на него.

Задание 9 представляет собой вопрос, на который необходимо дать письменный ответ. Полный ответ должен включать в себя не только ответ на вопрос, но и его развернутое логически связанное обоснование. При необходимости сделайте рисунок. Ответ записывайте четко и разборчиво.

9.

Почему небо голубого цвета, если главный источник света для Земли – Солнце, которое светит почти белым светом? Почему небо становится красным на закате и на восходе?

Для задания 10 необходимо записать полное решение, которое включает запись кратко условия задачи (Дано); рисунок; запись формул, применение которых необходимо и достаточно для решения задачи; а также математические преобразования и расчеты, приводящие к числовому ответу.

10.

Какой наименьший линейный диаметр должно иметь солнечное пятно, чтобы его можно было различить невооруженным глазом (при наблюдениях через специальный светофильтр), если разрешающая способность глаза равна $1'$. Ответ запишите в км.

Итоговая контрольная работа по астрономии

Вариант № 2

Инструкция по выполнению работы

На выполнение контрольной работы по астрономии отводится 45 минут. Работа состоит из 3-х частей и включает 10 заданий.

Часть 1 содержит 4 задания (1–4). К каждому заданию приводится 4 варианта ответа, из которых только 1 верный. При выполнении задания части 1 в тетради для контрольных работ сделайте запись: «Часть 1», проставьте номера заданий по порядку и запишите номер выбранного ответа в контрольной работе. Если вы выбрали не тот номер, то зачеркните этот номер крестиком, а рядом поставьте номер правильного ответа.

Часть 2 включает 4 задания с кратким ответом (5–8). При выполнении заданий части 2 ответ записывается в тетради для контрольных работ. При этом делается запись: «Часть 2», проставляются номера заданий по порядку и записывается последовательность цифр ответа. В случае записи неверного ответа зачеркните его и запишите рядом новый.

Часть 3 содержит 2 задания (9–10), на которые следует дать развернутый ответ. Ответы на задания части 3 записываются в тетради для контрольных работ, после записи: «Часть 3». При выполнении заданий части 2 и 3 значение искомой величины следует записать в тех единицах, которые указаны в условии задания. Если такого указания нет, то значение величины следует записать в Международной системе единиц (СИ).

При вычислениях разрешается использовать непрограммируемый калькулятор.

При выполнении заданий можно пользоваться черновиком. Записи в черновике не учитываются при оценивании работы.

Советуем выполнять задания в том порядке, в котором они даны. С целью экономии времени пропускайте задание, которое не удаётся выполнить сразу, и переходите к следующему. Если после выполнения всей работы у вас останется время, то можно вернуться к пропущенным заданиям.

За каждый правильный ответ в «Части 1» дается 1 балл, в «Части 2» 1–2 балла, в «Части 3» – от 1 до 3 баллов. Баллы, полученные вами за все выполненные задания, суммируются. Максимальное количество баллов 18.

Отметка 5 ставится за более 88% выполненной работы (16–18 баллов).

Отметка 4 ставится за более 70% выполненной работы (13–15 баллов).

Отметка 3 ставится за более 55% выполненной работы (10–12 баллов).

Постарайтесь выполнить как можно больше заданий и набрать как можно большее количество баллов.

Желаем успеха!

Ниже приведены справочные данные, которые могут понадобиться вам при выполнении работы.

Наиболее важные величины, встречающиеся в астрономии	
Видимый угловой диаметр Солнца и Луны	0,5 ⁰
Продолжительность звездного года (период обращения Земли вокруг Солнца)	365 сут 5 ч 49 мин
Продолжительность синодического месяца (период изменения фаз Луны)	29,5 сут
Продолжительность звездного месяца (период обращения Луны вокруг Земли)	27,3 сут
Средний радиус Земли	6 370 км
Среднее расстояние от Земли до Луны	384 000 км
Среднее расстояние от Земли до Солнца	150 млн км
1 парсек	206265 а.е. = 3,26 св. года = $3 \cdot 10^{13}$ км

Часть 1

К каждому из заданий 1-4 даны 4 варианта ответа, из которых только 1 правильный. Номер этого ответа запишите в тетради.

1.

В каком созвездии находится галактика М31 ($\alpha = 0^{\text{h}}40^{\text{m}}$, $\delta = +41^{\text{o}}$)?

А) Треугольник

В) Пегас

Б) Андромеда

Г) Скульптор

2.

Укажите, какой из следующих фактов опровергает гипотезу о неподвижности Земли и движении Солнца вокруг нее.

А) Ежедневная кульминация Солнца.

Б) Движение звезд, наблюдаемое в течение ночи.

В) Движение Солнца на фоне звезд, происходящее в течение года.

Г) Ни один из этих фактов.

3. На каком расстоянии должна находиться звезда, чтобы ее видимая звездная величина была равна абсолютной звездной величине?


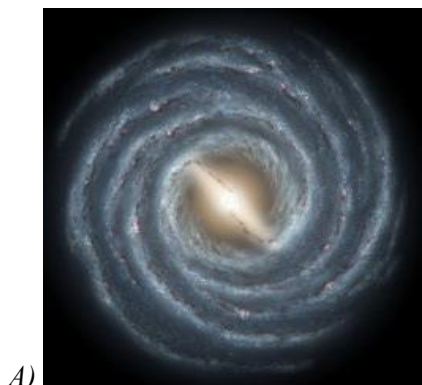
А) 1 пк

В) 100 пк

Б) 10 пк

Г) 1000 пк

4. На какой картинке изображена Наша Галактика – Млечный Путь?







Часть 2

При выполнении заданий с кратким ответом (задания 5-8) необходимо записать ответ в указанном в тексте задания месте.

Ответом к каждому из заданий 5-7 будет некоторая последовательность цифр. В тетради запишите номер вопроса и последовательность цифр – номера выбранных ответов. Каждую цифру пишите в отдельной клеточке.

5. Установите соответствие (логическую пару). К каждому названию созвездия, отмеченному буквой, подберите соответствующее изображение, обозначенное цифрой. Запишите в таблицу выбранные цифры под соответствующими буквами.

НАЗВАНИЕ СОЗВЕЗДИЯ	ИЗОБРАЖЕНИЕ
А. Орел	1. 

Б. Большая Медведица	2. 
В. Цефей	3. 
Г. Дракон	4. 

Ответ:

А	Б	В	Г

6. Расположите угловые координаты светил в порядке их **возрастания**. Запишите в таблицу получившуюся последовательность цифр ответа.

- 1) $15^{\text{h}}12^{\text{m}}$
- 2) $5^{\text{h}}24^{\text{m}}$
- 3) 90°
- 4) $89^{\circ}40'$

Ответ:

--	--	--	--

7. Рассмотрите таблицу, содержащую сведения о ярких звездах:

Наименование звезды	Температура, К	Масса (в массах Солнца)	Радиус (в радиусах Солнца)	Плотность по отношению к плотности воды
Антарес	3 300	18	560	$1,5 \cdot 10^{-7}$
Арктур	4 100	4,2	26	$3 \cdot 10^{-4}$
Вега	9 500	2,8	3,0	0,14
Сириус В	8 200	1	$2 \cdot 10^{-2}$	$1,75 \cdot 10^6$
Ригель	11 200	40	138	$2 \cdot 10^{-5}$
α Центавра	5 730	1,02	1,2	0,80
70 Змееносца	4 900	0,8	0,89	2,2
40 Эридана	10 000	0,44	$1,7 \cdot 10^{-2}$	$1,25 \cdot 10^8$

Выберите два утверждения, которые соответствуют характеристикам звезд.

- 1) Звезды Антарес и Ригель являются сверхгигантами.
- 2) Звезда Арктур относится к голубым звездам спектрального класса O.
- 3) Звезда Сириус В относится к звездам главной последовательности на диаграмме Герцшпрунга-Рассела.
- 4) Температура поверхности Веги ниже температуры поверхности Солнца.
- 5) Звезда 40 Эридана относится к белым карликам.

Ответ:

Ответом к заданию 8 является число. В тетради запишите номер вопроса и полученный ответ. Каждую цифру пишите в отдельной клеточке. Единицы измерения астрономических величин писать не нужно.

8. Вычислите большую полуось планеты Марс, если ее синодический период равен 780 сут. Ответ выразите в астрономических единицах и округлите до десятых.

Ответ: _____ а.е.

Часть 3

Для ответа на задания части 3 (задания 9-10) используйте тетрадь для контрольных работ. Запишите сначала номер задания, а затем развернутый ответ на него.

Задание 9 представляет собой вопрос, на который необходимо дать письменный ответ. Полный ответ должен включать в себя не только ответ на вопрос, но и его развернутое логически связанное обоснование. При необходимости сделайте рисунок. Ответ записывайте четко и разборчиво.

9. Чем объясняется отсутствие атмосферы у планеты Меркурий?

Для задания 10 необходимо записать полное решение, которое включает запись краткого условия задачи (Дано); рисунок; запись формул, применение которых необходимо и достаточно для решения задачи; а также математические преобразования и расчеты, приводящие к числовому ответу.

10. Какой угловой диаметр должно иметь солнечное пятно, чтобы его линейный диаметр равнялся радиусу Земли? Ответ запишите в угловых секундах.

Итоговая контрольная работа по астрономии

Вариант № 3

Инструкция по выполнению работы

На выполнение контрольной работы по астрономии отводится 45 минут. Работа состоит из 3-х частей и включает 10 заданий.

Часть 1 содержит 4 задания (1–4). К каждому заданию приводится 4 варианта ответа, из которых только 1 верный. При выполнении задания части 1 в тетради для контрольных работ сделайте запись: «Часть 1», проставьте номера заданий по порядку и запишите номер выбранного ответа в контрольной работе. Если вы выбрали не тот номер, то зачеркните этот номер крестиком, а рядом поставьте номер правильного ответа.

Часть 2 включает 4 задания с кратким ответом (5–8). При выполнении заданий части 2 ответ записывается в тетради для контрольных работ. При этом делается запись: «Часть 2», проставляются номера заданий по порядку и записывается последовательность цифр ответа. В случае записи неверного ответа зачеркните его и запишите рядом новый.

Часть 3 содержит 2 задания (9–10), на которые следует дать развернутый ответ. Ответы на задания части 3 записываются в тетради для контрольных работ, после записи: «Часть 3». При выполнении заданий части 2 и 3 значение искомой величины следует записать в тех единицах, которые указаны в условии задания. Если такого указания нет, то значение величины следует записать в Международной системе единиц (СИ).

При вычислениях разрешается использовать непрограммируемый калькулятор.

При выполнении заданий можно пользоваться черновиком. Записи в черновике не учитываются при оценивании работы.

Советуем выполнять задания в том порядке, в котором они даны. С целью экономии времени пропускайте задание, которое не удаётся выполнить сразу, и переходите к следующему. Если после выполнения всей работы у вас останется время, то можно вернуться к пропущенным заданиям.

За каждый правильный ответ в «Части 1» дается 1 балл, в «Части 2» 1–2 балла, в «Части 3» – от 1 до 3 баллов. Баллы, полученные вами за все выполненные задания, суммируются. Максимальное количество баллов 18.

Отметка 5 ставится за более 88% выполненной работы (16–18 баллов).

Отметка 4 ставится за более 70% выполненной работы (13–15 баллов).

Отметка 3 ставится за более 55% выполненной работы (10–12 баллов).

Постарайтесь выполнить как можно больше заданий и набрать как можно большее количество баллов.

Желаем успеха!

Ниже приведены справочные данные, которые могут понадобиться вам при выполнении работы.

Наиболее важные величины, встречающиеся в астрономии	
Видимый угловой диаметр Солнца и Луны	$0,5^{\circ}$
Продолжительность звездного года (период обращения Земли вокруг Солнца)	365 сут 5 ч 49 мин
Продолжительность синодического месяца (период изменения фаз Луны)	29,5 сут
Продолжительность звездного месяца (период обращения Луны вокруг Земли)	27,3 сут
Средний радиус Земли	6 370 км
Среднее расстояние от Земли до Луны	384 000 км
Среднее расстояние от Земли до Солнца	150 млн км
1 парсек	$206265 \text{ а.е.} = 3,26 \text{ св. года} = 3 \cdot 10^{13} \text{ км}$

Часть 1

К каждому из заданий 1-4 даны 4 варианта ответа, из которых только 1 правильный. Номер этого ответа запишите в тетради.

1.

Какой объект имеет экваториальные координаты $\alpha = 15^{\text{ч}}12^{\text{м}}$, $\delta = -9^{\circ}$?

А) δ Змеи

В) β Весов

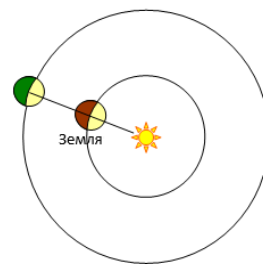
Б) α Волопаса

Г) δ Скорпиона

2.

Как называется конфигурация планет, изображенная на рисунке? В какое время суток можно наблюдать такую конфигурацию?

- А) Соединение. Планета видна на небе всю ночь.
- Б) Восточная квадратура. Планета видна вечером.
- В) Восточная квадратура. Планета видна утром.
- Г) Противостояние. Планета видна на небе всю ночь.




3. Где располагается Солнце на диаграмме «спектр-светимость»?
- А) На главной последовательности
 - Б) На последовательности красных гигантов
 - В) На последовательности белых карликов
 - Г) На последовательности сверхгигантов
4. Какова структура нашей Галактики (согласно классификации Хаббла)?
- А) Эллиптическая
 - Б) Неправильная
 - В) Линзовидная
 - Г) Спиральная



Часть 2

При выполнении заданий с кратким ответом (задания 5-8) необходимо записать ответ в указанном в тексте задания месте.

Ответом к каждому из заданий 5-7 будет некоторая последовательность цифр. В тетради запишите номер вопроса и последовательность цифр – номера выбранных ответов. Каждую цифру пишите в отдельной клеточке.

5. Установите соответствие (логическую пару). К каждому названию созвездия, отмеченному буквой, подберите соответствующее изображение, обозначенное цифрой. Запишите в таблицу выбранные цифры под соответствующими буквами.

НАЗВАНИЕ СОЗВЕЗДИЯ	ИЗОБРАЖЕНИЕ
А. Малая Медведица	1. 
Б. Кассиопея	2. 

В. Персей	3. 
Г. Лев	4. 

Ответ:

А	Б	В	Г

6. Расположите астрономические величины в порядке их *убывания*. Запишите в таблицу получившуюся последовательность цифр ответа.

- 1) 20 сут
- 2) 300 ч
- 3) 0,6 года
- 4) 600 000 000 с

Ответ:

--	--	--	--

7. Используя таблицу, содержащую сведения о ярких звездах, выполните задание.

Наименование звезды	Температура, К	Масса (в массах Солнца)	Радиус (в радиусах Солнца)	Созвездие, в котором находится звезда
Капелла	5 200	3	2,5	Возничий
Менкалинан (β Возничего А)	9 350	2,7	2,4	Возничий
Денеб	8 550	21	210	Лебедь
Садр	6 500	12	255	Лебедь
Бетельгейзе	3 100	20	900	Орион
Ригель	11 200	40	138	Орион
Альдебаран	3 500	5	45	Телец
Эльнат	14 000	5	4,2	Телец

Выберите **два** утверждения, которые соответствуют характеристикам звезд:

- 1) Звезды Капелла и Менкалинан относятся к одному созвездию, значит находятся на одинаковом расстоянии от Солнца.
- 2) Звезда Денеб является сверхгигантом.
- 3) Звезда Бетельгейзе относится к красным звездам спектрального класса М.
- 4) Звезды Альдебаран и Эльнат имеют одинаковую массу, значит они относятся к одному и тому же спектральному классу.
- 5) Температура на поверхности Ригеля в 2 раза ниже, чем на поверхности Солнца.

Ответ:

--	--

Ответом к заданию 8 является число. В тетради запишите номер вопроса и полученный ответ. Каждую цифру пишите в отдельной клеточке. Единицы измерения астрономических величин писать не нужно.

8. Сколько суток продолжается полет космического аппарата до Марса, если он проходит по эллипсу, большая полуось которого равна 1,25 а.е. Ответ округлите до целых.

Ответ: _____ сут.

Часть 3

Для ответа на задания части 3 (задания 9-10) используйте тетрадь для контрольных работ. Запишите сначала номер задания, а затем развернутый ответ на него.

Задание 9 представляет собой вопрос, на который необходимо дать письменный ответ. Полный ответ должен включать в себя не только ответ на вопрос, но и его развернутое логически связанное обоснование. При необходимости сделайте рисунок. Ответ записывайте четко и разборчиво.

9. Какие физические процессы лежат в основе образования облаков на различных планетах?

Для задания 10 необходимо записать полное решение, которое включает запись краткого условия задачи (Дано); рисунок; запись формул, применение которых необходимо и достаточно для решения задачи; а также математические преобразования и расчеты, приводящие к числовому ответу.

10. На Луне с Земли невооруженным взглядом можно различить объекты диаметром 200 км. Определите, какого размера объекты будут видны на Марсе невооруженному взгляду с расстояния 10^6 км. Ответ дайте в км.

Итоговая контрольная работа по астрономии

Вариант № 4

Инструкция по выполнению работы

На выполнение контрольной работы по астрономии отводится 45 минут. Работа состоит из 3-х частей и включает 10 заданий.

Часть 1 содержит 4 задания (1–4). К каждому заданию приводится 4 варианта ответа, из которых только 1 верный. При выполнении задания части 1 в тетради для контрольных работ сделайте запись: «Часть 1», проставьте номера заданий по порядку и запишите номер выбранного ответа в контрольной работе. Если вы выбрали не тот номер, то зачеркните этот номер крестиком, а рядом поставьте номер правильного ответа.

Часть 2 включает 4 задания с кратким ответом (5–8). При выполнении заданий части 2 ответ записывается в тетради для контрольных работ. При этом делается запись: «Часть 2», проставляются номера заданий по порядку и записывается последовательность цифр ответа. В случае записи неверного ответа зачеркните его и запишите рядом новый.

Часть 3 содержит 2 задания (9–10), на которые следует дать развернутый ответ. Ответы на задания части 3 записываются в тетради для контрольных работ, после записи: «Часть 3». При выполнении заданий части 2 и 3 значение искомой величины следует записать в тех единицах, которые указаны в условии задания. Если такого указания нет, то значение величины следует записать в Международной системе единиц (СИ).

При вычислениях разрешается использовать непрограммируемый калькулятор.

При выполнении заданий можно пользоваться черновиком. Записи в черновике не учитываются при оценивании работы.

Советуем выполнять задания в том порядке, в котором они даны. С целью экономии времени пропускайте задание, которое не удаётся выполнить сразу, и переходите к следующему. Если после выполнения всей работы у вас останется время, то можно вернуться к пропущенным заданиям.

За каждый правильный ответ в «Части 1» дается 1 балл, в «Части 2» 1–2 балла, в «Части 3» – от 1 до 3 баллов. Баллы, полученные вами за все выполненные задания, суммируются. Максимальное количество баллов 18.

Отметка 5 ставится за более 88% выполненной работы (16–18 баллов).

Отметка 4 ставится за более 70% выполненной работы (13–15 баллов).

Отметка 3 ставится за более 55% выполненной работы (10–12 баллов).

Постарайтесь выполнить как можно больше заданий и набрать как можно большее количество баллов.

Желаем успеха!

Ниже приведены справочные данные, которые могут понадобиться вам при выполнении работы.

Наиболее важные величины, встречающиеся в астрономии	
Видимый угловой диаметр Солнца и Луны	0,5 ⁰
Продолжительность звездного года (период обращения Земли вокруг Солнца)	365 сут 5 ч 49 мин
Продолжительность синодического месяца (период изменения фаз Луны)	29,5 сут
Продолжительность звездного месяца (период обращения Луны вокруг Земли)	27,3 сут
Средний радиус Земли	6 370 км
Среднее расстояние от Земли до Луны	384 000 км
Среднее расстояние от Земли до Солнца	150 млн км
1 парсек	206265 а.е. = 3, 26 св. года = $3 \cdot 10^{13}$ км

Часть 1

К каждому из заданий 1-4 даны 4 варианта ответа, из которых только 1 правильный. Номер этого ответа запишите в тетради.

1.

В каком созвездии находится Луна, если ее экваториальные координаты $\alpha = 20^{\text{h}}30^{\text{m}}$, $\delta = -20^{\circ}$?

А) Козерога

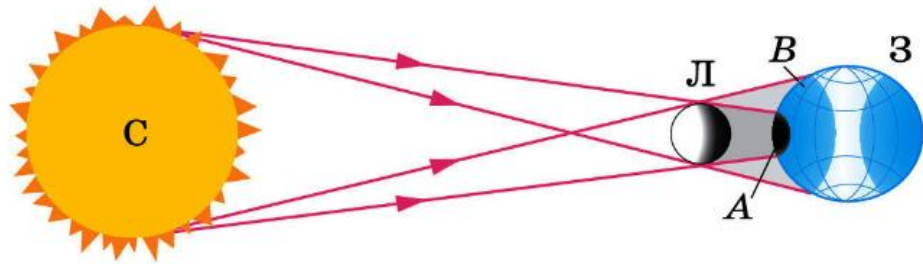
В) Коня

Б) Водолея

Г) Орла

2.

Какое явление увидит наблюдатель, находящийся в точке В на поверхности Земли?



- А) Полное солнечное затмение
 Б) Полное лунное затмение
 В) Частное солнечное затмение
 Г) Частное лунное затмение

3. Какие звезды имеют самую низкую температуру?

- А) Голубые
 Б) Желтые
 В) Белые
 Г) Красные

4. Где в Галактике расположена Солнечная система?



- А) В центре Галактики.
 Б) В ядре Галактики.
 В) В основной плоскости диска Галактики, ближе к краю.
 Г) В темной зоне.



Часть 2

При выполнении заданий с кратким ответом (задания 5-8) необходимо записать ответ в указанном в тексте задания месте.

Ответом к каждому из заданий 5-7 будет некоторая последовательность цифр. В тетради запишите номер вопроса и последовательность цифр – номера выбранных ответов. Каждую цифру пишите в отдельной клеточке.

5. Установите соответствие (логическую пару). К каждому названию созвездия, отмеченному буквой, подберите соответствующее изображение, обозначенное цифрой. Запишите в таблицу выбранные цифры под соответствующими буквами.

НАЗВАНИЕ СОЗВЕЗДИЯ	ИЗОБРАЖЕНИЕ
А. Возничий	1. 
Б. Орион	2. 

В. Лира	3. 
Г. Большая Медведица	4. 

Ответ:

А	Б	В	Г

6. Расположите астрономические величины в порядке их **убывания**. Запишите в таблицу получившуюся последовательность цифр ответа.

- 1) 500 а.е.
- 2) 3 пк
- 3) $7 \cdot 10^{15}$ км
- 4) 60 св. лет

Ответ:

--	--	--	--

7. Рассмотрите таблицу, содержащую характеристики планет Солнечной системы.

Название планеты	Диаметр в районе экватора, км	Период обращения вокруг Солнца	Период обращения вокруг оси	Вторая космическая скорость, км/с	Средняя плотность $г/см^3$
Меркурий	4 878	87,97 суток	58,6 суток	4,25	5,43
Венера	12 104	224,7 суток	243 суток 3 часа 50 минут	10,36	5,25
Земля	12 756	365,3 суток	23 часа 56 минут	11,18	5,52
Марс	6 794	687 суток	24 часа 37 минут	5,02	3,93
Юпитер	142 800	11 лет 314 суток	9 часов 55,5 минут	59,54	1,33
Сатурн	119 900	29 лет 168 суток	10 часов 40 минут	35,49	0,17
Уран	51 108	83 года 273 суток	17 часов 14 минут	21,29	1,24
Нептун	49 493	164 года 292 суток	17 часов 15 минут	23,71	1,67

Выберите **два** утверждения, которые соответствуют характеристикам планет:

- 1) Большая средняя плотность Меркурия свидетельствует о том, что на этой планете отсутствует вода.
- 2) В течение венерианского года планета не успевает совершить полный оборот вокруг своей оси.
- 3) Масса Нептуна в 2 раза больше массы Сатурна.
- 4) Первая космическая скорость вблизи Сатурна составляет примерно 25,1 км/с.
- 5) Ускорение свободного падения на Юпитере составляет 59,54 м/с².

Ответ:

Ответом к заданию 8 является число. В тетради запишите номер вопроса и полученный ответ. Каждую цифру пишите в отдельной клеточке. Единицы измерения астрономических величин писать не нужно.

8. Вычислите сидерический период обращения планеты Венера, если большая полуось ее орбиты равна 0,7 а.е. Ответ выразите в годах и округлите до десятых.

Ответ: _____ г.

Часть 3

Для ответа на задания части 3 (задания 9-10) используйте тетрадь для контрольных работ. Запишите сначала номер задания, а затем развернутый ответ на него.

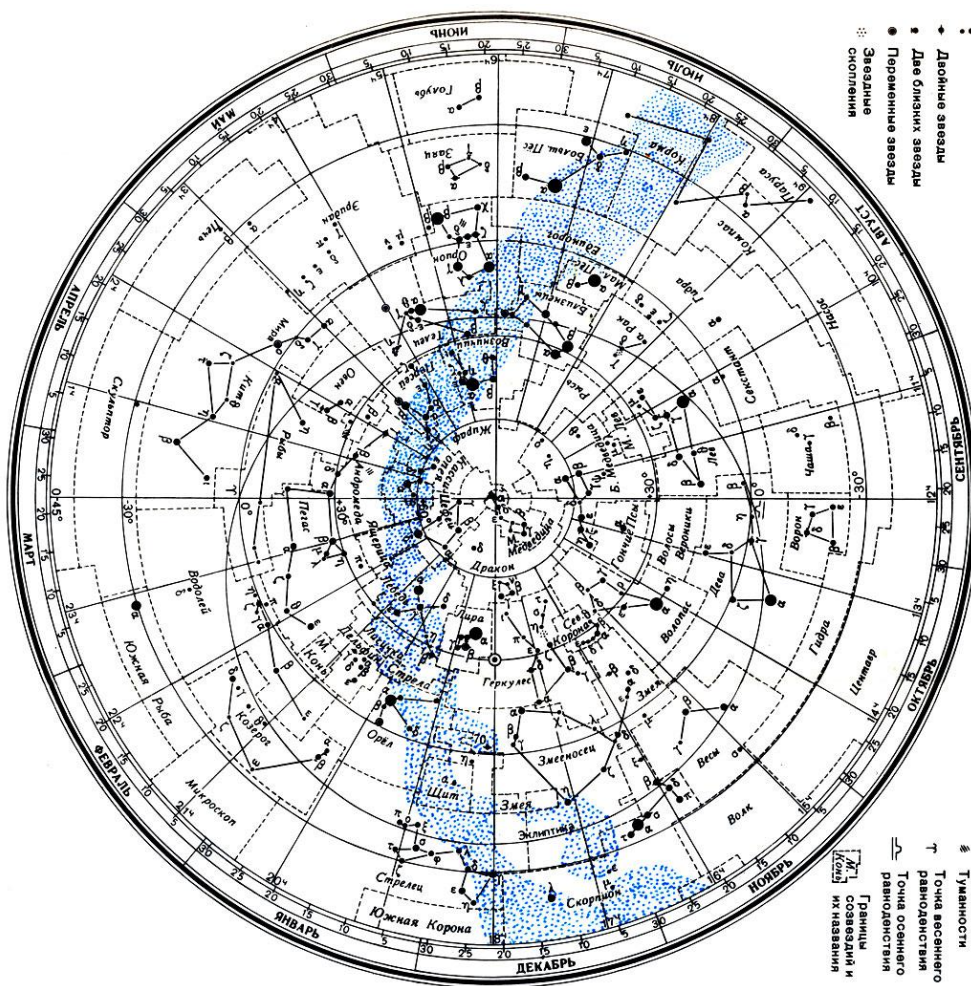
Задание 9 представляет собой вопрос, на который необходимо дать письменный ответ. Полный ответ должен включать в себя не только ответ на вопрос, но и его развернутое логически связанное обоснование. При необходимости сделайте рисунок. Ответ записывайте четко и разборчиво.

9. После захода Солнца на западе видна комета. Как относительно горизонта направлен её хвост?

Для задания 10 необходимо записать полное решение, которое включает запись краткого условия задачи (Дано); рисунок; запись формул, применение которых необходимо и достаточно для решения задачи; а также математические преобразования и расчеты, приводящие к числовому ответу.

10. Чему равен угловой диаметр Солнца, наблюдаемого с Марса? Расстояние от Марса до Солнца 1,5 а.е. Ответ запишите в угловых минутах.

ПОДВИЖНАЯ КАРТА ЗВЕЗДНОГО НЕБА



НАКЛАДНОЙ КРУГ К КАРТЕ ЗВЕЗДНОГО НЕБА

